

Смитажная работа  
по географии

ученица 9А класса.

МБОУ СОШ №12

Батушкова Аида Ивановна

всего 66 баб

Председатели жюри: Артемченко М. В.

Члены жюри: Давыдова И. Н. Дай

г. Ленинское

2021 - 2022 уч. год



9-Г-3

**Задания школьного этапа  
Всероссийской олимпиады школьников в 2021-2022 учебном году  
по географии**

9 класс

Максимальный балл – 100 баллов

**Тестовый тур**

**Задание 1.** Задание включает 15 тестов. При ответе на вопросы 1.1.-1.11 нужно выбрать только один правильный ответ, который вы считаете наиболее полным и правильным. За каждый правильный ответ – 1 балл. Максимальное количество – 10 баллов. В задании 1.11-1.15 дописать предложение-1 балл.

**1.1. Выбери правильное утверждение.**

- А) первое кругосветное путешествие совершил Х. Колумб
- Б) основателем науки географии был Пифагор
- В) первым путешественником, доказавшим, что люди каменного века могли пересекать Тихий океан, был Тур Хейердал

Г) в переводе с греческого «география» землеустройство

**1.2. Живший в Египте греческий учёный Эратосфен...**

- А) создал глобус
- Б) составил первую карту мира
- + В) довольно точно вычислил размеры Земли.
- Г) составил карту, на которой Индийский океан окружён сушей

**1.3. Самые высокие горы на материке Евразия – это...**

- + А) Гималаи; Б) Тянь-Шань; В) Кавказские; Г) Альпы

**1.4. Ближайший к земной поверхности слой атмосферы называется...**

- + А) тропосфера; Б) стратосфера; В) ионосфера; Г) термосфера

**1.5. Кто из путешественников совершил «второе открытие Америки»**

- + А) Д. Кук; Б) А. Гумбольдт; В) Д. Ливингстон; Г) Р. Скотт

**1.6. Пересыхающие реки в Австралии называются:**

- + А) вади; Б) овраги; В) крики; Г) самум

**1.7. Анды образовались в результате столкновения литосферных плит:**

- + А) Евразийской и Северо-Американской; Б) Индо-Австралийской и Южно-Американской
- + В) Наска и Южно-Американской; Г) Тихоокеанской и Южно-Американской

**1.8. В какой природной зоне наиболее плодородные почвы?**

- + А) степь; Б) тайга; В) тундра; Г) широколиственные леса

**1.9. Самая сухая пустыня Атакама находится в:**

- + А) Ю. Америке; Б) Африке; В) Антарктиде; Г) Евразии

**1.10. Выберите вариант, где правильно указаны озёра материка, который омывается водами трёх океанов:**

- А) Чад, Виктория, Маракайбо, Поопо
- Б) Ладожское, Байкал, Балатон, Балхаш
- + В) Верхнее, Гурон, Эри, Онтарио
- Г) Эйр, Танганьика, Титикака, Иссык-Куль

**1.11. Какое из перечисленных животных является эндемиком Евразии:**

- + А) капибара; Б) коала; В) большая панда; Г) лемур

**1.12. Крайняя восточная материковая точка Евразии.** *Денкива*

**1.13. Мыс Пиай находится в** *Ю. полушариях. и В*

**1.14. Самая большая страна по численности населения.** *Китай*

**1.15. Самое большое по площади озеро мира.** *Каспийское*

Итого 15 баллов

14

Итого 665

Теоретический тур.

Задание 2. Выписать «третий лишний» объект. За каждый правильный ответ 1 балл.

За обоснование (объяснение почему выбрал географический объект) 1 балл.

Например № 3: Сахалин и Мадагаскар –острова, Камчатка п-ов.

1. Гвинеийский, Гибралтарский, Мексиканский
2. Каспийское, Средиземное, Черное
3. Сахалин, Мадагаскар, Камчатка
4. Амур, Байкал, Амазонка
5. Фудзияма, Эверест, Везувий
6. Магелланов, Берингов, Гудзонов
7. Каспийское, Белое, Байкал
8. Индостан, Пиренейский, Гренландия
9. Нил, Ниагара, Анхель
10. Килиманджаро, Эльбрус, Арарат

20

Итого 20 баллов.

Задание 3. Определите ошибку в логических рядах географических объектов мира. В скобках в каждом ряду дана подсказка, которая помогает объяснить, по какому принципу исключается географический объект. Обоснуйте исключение ошибочного объекта, приведите один собственный пример для продолжения логического ряда.

1. Сицилия-Зеландия-Сардиния-Корсика-Крит(географическое положение)
2. Прикаспийская-Среднерусская-Приволжская-Приднепровская-Валдайская(формы рельефа)
3. Кейптаун-Буэнос-Айрес-Мельбурн-Дакар-Барселона(климат)
4. Узбекистан-Казахстан-Афганистан-Таджикистан-Туркмения (регионы мира)
5. Гаттерия-утконос-кеа-киви-какапо(эндемики)

Таблица для ответов.

Номер ряда	Ошибка в логическом ряду ( три балла за правильный ответ)	Обоснование исключения (4 балла за правильный ответ)	Ваш вариант для продолжения логического ряда (три балла за правильный ответ)
1	Зеландия	в тисом	Мальорка
2	Прикаспийская	низменность	Сибирско-московские
3			
4	Туркмения		
5			

14

Итого 50 баллов.

Задание 4. Используя таблицу, запиши названия пяти рек, каждая из которых начинается с буквы Д.

<del>ДЕС</del>	<del>ДНЕ</del>	<del>ДНЕ</del>	<del>ДУ</del>	<del>Д</del>
<del>ПР</del>	<del>НА</del>	<del>НАЙ</del>	<del>ОН</del>	<del>СТР</del>

За каждое название -2 балл. Итого 10 баллов

10

Задание 5. Этот водоём находится в 18 км от города Ставрополя, на высоте 230 метров над уровнем моря в верхнем течении р. Егорлык

5

Итого 5 баллов

Оценочная работа  
 по реферату  
 тема 10 класс А  
 МБОУ СОШ №12  
 г.Ковининовка  
 Окленова Ангел.

Умно 785

Руководитель реферата Швецова И.В. пр.  
 Дата реферата: 21.11.2021

10-Г-2

**Задания школьного этапа  
Всероссийской олимпиады школьников в 2021-2022 учебном году  
по географии**

10 класс

Максимальный балл – 100 баллов

**Тестовый тур**

**Задание 1.** Задание включает 15 тестов. При ответе на вопросы 1.1.-1.11 нужно выбрать только один правильный ответ, который вы считаете наиболее полным и правильным. За каждый правильный ответ – 1 балл. Максимальное количество – 10 баллов. В задании 1.11-1.15 дописать предложение-1 балл.

**1.1. В России наибольшую высокую вершину из представленного списка имеют горы:**

А) Хибинь; Б) Уральские  В) Сихотэ-Алинь; Г) Бырранга)

**1.2. Область современного рифтообразования:**

+  А) оз. Байкал; Б) Кавказские горы; В) Курильские о-ва; Г) Сахалин

**1.3. Высотный пояс каменной берёзы характерен для:**

+ А) Урала;  Б) Камчатки; В) Карелии; Г) Алтая

**1.4. Командорские острова названы в честь:**

+ А) С. Дежнева;  Б) В. Беринга; В) В. Баренца; Г) А. Чирикова

**1.5. Выберите аazonальный тип растительности:**

+ А) смешанные леса; Б) лесотундра; В) тундра;  Г) мангровые заросли

**1.6. Из перечисленных выберите национальный парк расположенный в Африке::**

-  А) Игуасу; Б) Аскания – Нова; В) Серенгети;  Г) Йеллустонский

**1.7. Представители какого народа первыми встречают Новый год в России?**

- А) Буряты; Б) долганы;  В) ительмены; Г) нганасаны

**1.8. Какая проекция отличается наименьшим искажением длин в области экватора?**

+ А) коническая; Б) косая азимутальная;  В) цилиндрическая; Г) полярная азимутальная

**1.9. Одно из самых крупных газовых месторождений в России:**

+  А) Уренгойское; Б) Ромашкинское; В) Комсомольское; Г) Приобское

**1.10. Крупные месторождения железной руды в России расположены:**

+  А) В Белгородской области и в Карелии; Б) В Волгоградской области в Поволжье  
В) Дальний Восток; г) Р. Коми

**1.11. По форме правления большинство карликовых государств Европы..**

+ А) республики; Б) абсолютные монархии;  В) конституционные монархии; Г) теократические монархии

**1.12. Страной «льда и огня» называют:**

+ А) Швецию; Б) Финляндию;  В) Исландию; Г) Италию

**1.13. Организация ОПЕК объединяет:**

+ А) страны Востока; Б) страны Азии;  В) страны-экспортеры нефти; Г) новые индустриальные страны

**1.14. Показатель высокого уровня экономического развития :**

+ А) численность населения; Б)  ВВП на душу населения; В) плотность населения; Г) цены на машины

+ **1.15. Международная организация МАГАТЭ занимается вопросами** *атомная энергетика*

126

Итого 15 баллов

Итого: 786

## Теоретический тур.

**Задание 2.** Перед тобой два текста о неких уникальных местах нашей страны. Ответь, что «скрывается» за выделенными словами. Запиши свой ответ в таблицу через запятую.

1. Этот **остров**, многократно описанный в художественной и географической литературе. фигурой, по словам **одного русского писателя**, напоминает стерлядь. Протянулся он на 910 км, загораживая собой от **океана** берег материка и берег одной из крупнейших **рек** России. На карте его поверхность пестрит условными знаками горных хребтов, речных долин, полезных ископаемых, особенно **одного**. Был на карте еще один важный **условный знак**, в течение многих лет, лежавший поперек острова, но теперь вы его не найдете.

2. В 1738 году в ходе **экспедиции** российские мореплаватели нанесли на карту группу островов, дав им русские названия: **Цитронный, Фигурный, Три сестры, Зеленый** (дай современные названия). После того, как новые географические атласы распространились по Европе, путешественники всех стран начали спрашивать разрешения на посещение островов у Российской империи. Острова имеют очень интересное **происхождение**. Сейчас эти острова являются проблемой в отношениях России и этой страны.

**Ответ:**

1	Сахалин, Достоевский, Тимей, Амур, Кам. устье, действ. вулкан
2	Сев. Фридрихсвер, Шибобан, Кунашир, вулканич. острова, Япония

За каждое отгаданное слово 5 баллов . Итого 55 балла

40 бал

### Задание 3. Узнай соседей.

Российская Федерация состоит из 85 субъектов, каждый из которых уникальный, хоть и является равноправным членом огромной страны. У каждого из субъектов свои неповторимые черты, особенности. Эти особенности позволяют человеку думающему определить, о каком именно субъекте РФ идет речь. Вам предлагается определить, о каком субъекте идет речь, определив его соседей. Впиши в таблицу названия субъектов, там же укажи ту подсказку (или подсказки), которые помогли тебе определить каждый субъект. Подсказки выделены курсивом

<b>О первом соседе X</b>	Преобладает горный рельеф. Горные хребты и их отроги, вулканические плато, увалы занимают около 80 % его территории. Выходит к <i>морю</i> , которое названо по названию полуострова.
<b>О втором соседе X</b>	Здесь зарегистрировано почти две тысячи месторождений различного минерального сырья. Наиболее важными являются месторождения <i>этого</i> минерала (82 % запасов России), омывается самым мелким <i>океаном</i> планеты
<b>О третьем соседе X</b>	По россыпной добыче <i>этого минерала</i> занимает 1 место в России. Выходит к <i>морю</i> , которое в 2014 году решением ООН целиком отнесено к исключительной экономической зоне России
<b>О четвёртом соседе X</b>	Прямого выхода к морю этот субъект не имеет. В одном из <i>городов</i> этого субъекта построено ответвление трубопровода ВСТО в Китай.
<b>О пятом соседе X</b>	Этот субъект единственный в РФ, имеющий <i>подобный статус</i> . Административный центр этого субъекта находится в водосборном бассейне самой длинной пограничной <i>реки</i> России.

Ответ	Название субъекта/страны	Подсказки
Первый сосед	Жамгатовский —	Чукотское море
Второй сосед	Якутия 2	Алмазы, Северный ледовитый океан
Третий сосед	обл. Магаданская 2	Золото, Охотское море
Четвёртый сосед	Амурская 2	Г.Сковородино
Пятый сосед	Еврейская 2	Автономная область, Амур
X		

88

За каждый правильный ответ 2 баллов (итого 12 баллов)

**Задание 4.** Наш класс во время осенних каникул ездил на экскурсию по памятникам истории и архитектуры.

Какие города посетили школьники.

	Объект	Город
1	Троице –Сергеевскую Лавру	1. Верхнев Поляд
2	Ипатьевский монастырь	2. г. Ярославль
3	Золотые Ворота	3. г. Владимир
4	Эрмитаж	4. г. СПб
5	Дом Пашкова	5. г. Москва
6	Памятник Салавату Юлаеву	6. г. Уфа

За каждый правильный ответ 2 баллов (итого 12 баллов)

12

**Задание 5.** Это промышленное предприятие Ставрополя выращивает искусственные сапфиры. Как оно называется.

ОАО «Кристалл»

6 баллов

68



Амшицкая работа  
по литературе  
ученика МБОУ СОШ № 12  
11 Б класса  
Токмакова Владислава Евгеньевича

Итого 935

Председатель жюри: Артемченко Н.В.  
Член жюри: Давыдова И.И. Дед

г. Новосибирск  
2021-2022 уч. год

2. Сербия, Македония, Черногория, Хорватия, Сибирия, Россия и Якутия, 55

5. 1. Кривина св. ограда	Алроса	Алроса-ноб	ор. Бурана	+
2. Бурана св. ограда	Элра	В Киса	Илра-Сара	+
3. св. ограда	Толук. св.	Не св. св.-Эра.	<del>Илра-Сара</del> Сара св. ограда	+
4. Милс & св. ограда	Кадра	Эра-Эра-Эра	Бура	+
5. св. ограда-бурана св. ограда	ор. Бурана	Милс ЭКХ, Бура	Толук. св. ограда	+
Х. Бура				50

Задания школьного этапа  
Всероссийской олимпиады школьников в 2021-2022 учебном году  
по географии

11 класс

Максимальный балл –100 баллов

Тестовый тур

Задание 1. Задание включает 15 тестов. При ответе на вопросы 1.1.-1.17 нужно выбрать только один правильный ответ, который вы считаете наиболее полным и правильным. За каждый правильный ответ – 1 балл. Максимальное количество – 10 баллов. В задании 1.18 дописать предложение-1 балл.

1.1. Область современного рифтообразования:

- А) оз. Байкал; Б) Кавказские горы; В) Курильские о-ва; Г) Сахалин

1.2. Высотный пояс каменной берёзы характерен для:

- А) Урала; Б) Камчатки; В) Карелии; Г) Алтая

1.3. Командорские острова названы в честь:

- А) С. Дежнева; Б) В. Беринга; В) В. Баренца; Г) А. Чирикова

1.4. Выберите аazonальные типы растительности:

- А) смешанные леса; Б) лесотундра; В) тундра; Г) мангровые заросли

1.5. Из перечисленных выберите национальный парк расположенный в Африке::

- А) Игуасу; Б) Аскания – Нова; В) Серенгети; Г) Йеллустонский

1.6. Представители какого народа первыми встречают Новый год в России?

- А) Буряты; Б) долганы; В) ительмены; Г) нганасаны

1.7. Какая проекция отличается наименьшим искажением длин в области экватора?

- А) коническая; Б) косая азимутальная; В) цилиндрическая; Г) полярная азимутальная

1.9. Для чего используется шкала Бофорта:

- А) для определения прозрачности воды; Б) для определения силы землетрясения; В) для определения силы ветра

1.10. Крупнейшие запасы ртутных руд России сосредоточены в :

- А) В Еврейской автономной области; Б) Кемеровской области; В) Красноярский край; Г) Чукотский АО

1.11. По форме правления большинство карликовых государств Европы.

- А) республики; Б) абсолютные монархии; В) конституционные монархии; Г) теократические монархии

1.12. Страной «льда и огня» называют:

- А) Швецию; Б) Финляндию; В) Исландию; Г) Италию

1.13. Организация ОПЕК объединяет:

- А) страны Востока; Б) страны Азии; В) страны-экспортеры нефти; Г) новые индустриальные страны

1.14. С политической карты мира в 2003 году исчезло государство:

- А) Восточный Тимор; Б) Республика Судан; В) ДР Конго; Г) Союзная республика Югославия

1.15. Половина мирового улова рыбы приходится на :

- А) Азию; Б) Америку; В) Африку; Г) Европу

1.16. около 1/2 мировой добычи нефти приходится на страны:

- А) Африки и Зарубежной Европы; Б) Зарубежной Европы и США; В) Зарубежной Азии и России

1.17. Андские страны выделяются крупными ресурсами:

- А) Нефти и газа; Б) медными и полиметаллическими рудами; В) марганца и фосфоритов

1.18. Международная организация МАГАТЭ занимается вопросами ...энергетики *остатков*

1.19. Самое большое государство Латинской Америки... *Бразилия*

1.20. Самая высокогорная столица мира..... *Колумбия*

135

Итого 20 баллов

Итого 935

Теоретический тур

Задание 2. Выпишите из предложенного списка все республики, образовавшиеся на территории бывшей СФРЮ (Югославии): Сербия, Албания, Словакия, Македония, Черногория, Хорватия, Словения, Румыния, Босния и Герцеговина, Болгария.

50  
Итого 5 балла

Задание 3. На современной карте России нет городов с названиями:

Старое название города	Современное название
Царицын,	Волгоград
Горький	Нижегород
Калинин	Тверь
Щегловск	Кемерово
Куйбышев	Самара
Свердловск	Екатеринбург
Верхнеудинск	Улан-Удэ
Усть-Сысольск	Сыктывкар
Новониколаевск	Новосибирск
Чкалов	Оренбург


100  
За каждый правильный ответ 1 балл. Итого 10 баллов


Задание 4. Самый уникальный!

Перед тобой фрагменты аэрофотоснимков территорий, на которых находятся уникальные природные объекты, являющиеся особо охраняемыми природными территориями.


Определи объект и укажи в одном предложении его природную уникальность.

Ответ оформи в таблицу.





2



3

Ответ:

№	Название объекта	Уникальность объекта
1	Самарская Лука	Самая крупная излучина Волги
2	П-ов Таймыр	Самый северный п-ов Евразии
3	Остров Беринга (открыт в 1741 году), пролив Адмирала Кузнецова и маленький остров - о-в Медный	Остров вулканического происхождения, крупнейший из Командорских островов

150

За каждый правильный ответ 5 балла. Итого 15 баллов.

**Задание 5.** Пользуясь знаниями по географии, полученными в предыдущие годы, а также картами атласов. Определите общий признак всех пяти объектов. Собранных в каждой логической цепочке. Найдите географический объект, который является белой вороной (отличается от других в группе), и объясните выбор. Предложите свое продолжение логического ряда без белой вороны (приведите по одному примеру). Ответы занесите в таблицу.

1. Верхнее-Мичиган-Юкатан-Эри-Онтарио
2. Эльбрус-Белуха-Народная-Чогори-Победа
3. Тиманский кряж-Общий Сырт-Тобольский материк - Северные Увалы-Ергени
4. Бурундук-росомаха-кабарга-соболь-рысь
5. Вилькицкий Б.А.-Русанов В.А.-Седов Г.Я.-Врангель Ф.П.-Брусилов Г.Л.

№	Объединяющий признак объектов в цепочке (3 балла за верный ответ)	Белая ворона (2 балла)	Объяснение белой вороны (3 балла за верный ответ)	Продолжение логического ряда без белой вороны (2 балла за верный ответ)
1	Крупные озера	Нюхоток	Нюхоток - п-ов	Восточн. оз. Виннипег
2	Вершинки Рос. гор. сист.	Чогори	Находится в Китае	Мунку-Сардык
3	Рос. возвышенности	Тобольск. м-т	Не на Вост.-Европ. равнине	Мунку-Сардык Валдайск.
4	Эндемики Евразии	Кабарга	Эндемик Евразии	Бурий медведь
5	Рос. исследователи	Ф.И. Врангель	Жил в XIX веке	Долгошин И.Ф.

500

Максимальное количество баллов-50

Смешанная работа  
по созданию  
ученика 11 Б класса  
МБОУ СОШ №12  
Савочкина Ава Станиславовна

Учasto 935  
Председатель жюри: Артемченко Ю.В. Жу  
Члены жюри: Работкина И.И. Даф

Задания школьного этапа  
Всероссийской олимпиады школьников в 2021-2022 учебном году  
по географии

11 класс

Максимальный балл –100 баллов

Тестовый тур

Задание 1. Задание включает 15 тестов. При ответе на вопросы 1.1.-1.17 нужно выбрать только один правильный ответ, который вы считаете наиболее полным и правильным. За каждый правильный ответ – 1 балл. Максимальное количество – 10 баллов. В задании 1.18 дописать предложение-1 балл.

1.1. Область современного рифтообразования:

- A) оз. Байкал; Б) Кавказские горы; В) Курильские о-ва; Г) Сахалин

1.2. Высотный пояс каменной берёзы характерен для:

- А) Урала; Б) Камчатки; В) Карелии; Г) Алтая

1.3. Командорские острова названы в честь:

- A) С. Дежнева; Б) В. Беринга; В) В. Баренца; Г) А. Чирикова

1.4. Выберите азональные типы растительности:

- А) смешанные леса; Б) лесотундра; В) тундра; Г) мангровые заросли

1.5. Из перечисленных выберите национальный парк расположенный в Африке::

- A) Игуасу; Б) Аскания – Нова; В) Серенгети; Г) Йеллустонский

1.6. Представители какого народа первыми встречают Новый год в России?

- A) Буряты; Б) долганы; В) ительмены; Г) нганасаны

1.7. Какая проекция отличается наименьшим искажением длин в области экватора?

- A) коническая; Б) косая азимутальная; В) цилиндрическая; Г) полярная азимутальная

1.9. Для чего используется шкала Бофорта:

- A) для определения прозрачности воды; Б) для определения силы землетрясения; В) для определения силы ветра

1.10. Крупнейшие запасы ртутных руд России сосредоточены в :

- A) В Еврейском автономная область; Б) Кемеровской области; В) Красноярский край; Г) Чукотский АО

1.11. По форме правления большинство карликовых государств Европы.

- A) республики; Б) абсолютные монархии; В) конституционные монархии; Г) теократические монархии

1.12. Страной «льда и огня» называют:

- A) Швецию; Б) Финляндию; В) Исландию; Г) Италию

1.13. Организация ОПЕК объединяет:

- A) страны Востока; Б) страны Азии; В) страны-экспортеры нефти; Г) новые индустриальные страны

1.14. С политической карты мира в 2003 году исчезло государство:

- A) Восточный Тимор; Б) Республика Судан; В) ДР Конго; Г) Союзная республика Югославия

1.15. Половина мирового улова рыбы приходится на :

- А) Азию; Б) Америку; В) Африку; Г) Европу

1.16. около 1/2 мировой добычи нефти приходится на страны:

- A) Африки и Зарубежной Европы; Б) Зарубежной Европы и США; В) Зарубежной Азии и России

1.17. Андские страны выделяются крупными ресурсами:

- A) Нефти и газа; Б) медными и полиметаллическими рудами; В) марганца и фосфоритов

1.18. Международная организация МАГАТЭ занимается вопросами ....энергетики *атомной*

1.19. Самое большое государство Латинской Америки. *Мексика*

1.20. Самая высокогорная столица мира. *Катманду*

135

Итого 20 баллов

Итого 935

**Задание 2.** Выпишите из предложенного списка все республики, образовавшиеся на территории бывшей СФРЮ (Югославии): Сербия, Албания, Словакия, Македония, Черногория, Хорватия, Словения, Румыния, Босния и Герцеговина, Болгария.

55. Итого 5 балла

**Задание 3.** На современной карте России нет городов с названиями:

Старое название города	Современное название
Царицын,	Волгоград
Горький	Нижегород
Калинин	Тверь
Щегловск	Калерво
Куйбышев	Самара
Свердловск	Екатеринбург
Верхнеудинск	Улан-Удэ
Усть-Сысольск	Иктыкар
Новониколаевск	Новосибирск
Чкалов	Оренбург

105


За каждый правильный ответ 1 балл. Итого 10 баллов

**Задание 4. Самый уникальный!**


Перед тобой фрагменты аэрофотоснимков территорий, на которых находятся уникальные природные объекты, являющиеся особо охраняемыми природными территориями.

Определи объект и укажи в одном предложении его природную уникальность.


Ответ оформи в таблицу.







2



3

Ответ:

№	Название объекта	Уникальность объекта
1	Самарская Лука	Самая большая излучина Волги
2	П-ов Таймыр	Самая северная материковая часть Евразии, самый большой полуостров России.
3	Остров Беринга (открыт в 1741 году), пролив Адмирала Кузнецова и маленький остров - о-в Медный	Крупнейший из Командорских островов, на острове расположена могила Вильяма Беринга

За каждый правильный ответ 5 балла. Итого 15 баллов. 150

**Задание 5.** Пользуясь знаниями по географии, полученными в предыдущие годы, а также картами атласов. Определите общий признак всех пяти объектов. Собранных в каждой логической цепочке. Найдите географический объект, который является белой вороной( отличается от других в группе), и объясните выбор. Предложите свое продолжение логического ряда без белой вороны( приведите по одному примеру). Ответы занесите в таблицу.

1. Верхнее-Мичиган-Юкатан-Эри-Онтарио
2. Эльбрус-Белуха-Народная-Чогори-Победа
3. Тиманский кряж-Общий Сырт-Тобольский материк - Северные Увалы-Ергени
4. Бурундук-росомаха-кабарга-соболь-рысь
5. Вилькицкий Б.А.-Русанов В.А.-Седов Г.Я.-Врангель Ф.П.-Брусиллов Г.Л.

№	Объединяющий признак объектов в цепочке( 3 балла за верный ответ)	Белая ворона ( 2 балла)	Объяснение белой вороны( 3 балла за верный ответ)	Продолжение логического ряда без белой вороны( 2 балла за верный ответ)
1	Водные американские озера	Юкатан	Юкатан - полуостров, а не озеро	Турон
2	Вершины гор, снега России	Чогори	Линия, т.к. не находится в РФ	Ледяная
3	Высокингости в РФ	Тобольский кряж	Не находится на Вост.-Евр. равн.	Вайдайская возв.
4	Полные виды животных.	Кабарга	Инделик Евразии, остальные обитат	Бурый медведь
5	Росс. исл. Арктики	Врангель Ф.П.	Исследован в XIX в., а ост. - нач. XX в.	Томанин С.Ф.

Максимальное количество баллов-50 505

